



# KHỞI ĐỘNG



Company  
Logo

**Ngộ Không  
thật  
Ngộ Không  
giả**



Company  
Logo

**Ngộ Không  
thật  
Ngộ Không  
giả**



Company  
Logo

**Ngộ Không  
thật  
Ngộ Không  
giả**



Company  
Logo

$$25 - 9 =$$



CHỌN SỐ ĐÚNG BẠN TA ĐI ĐÁN TIẾP ĐÂY

A. 16

B. 17

Company  
Logo

$$45 - 6 =$$



CHỌN SỐ ĐÚNG ĐỂ BẠN TA ĐI ĐÁN TIẾP ĐÂY

A. 31

B. 39



Khám phá



Em gửi 15 bắp ngô.

Anh gửi 42 bắp ngô.

Anh gửi nhiều hơn em  
bao nhiêu bắp ngô?



Bài toán : Anh gửi 42 bắp ngô, em gửi 15 bắp ngô. Hỏi anh gửi nhiều hơn em bao nhiêu bắp ngô?

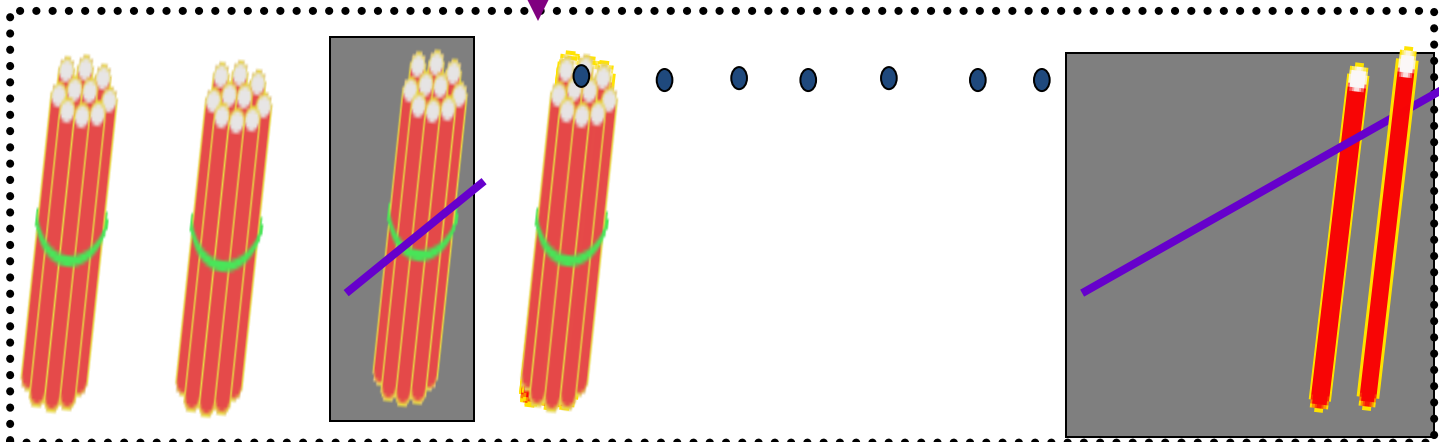

$$42 - 15 = ?$$

Nhóm 2

Thứ tư ngày 17 tháng 11 năm 2024

Toán

$$42 - 15 = ?$$



$$42 - 15 = 27$$

$$42 - 15 = ?$$

$$\begin{array}{r} \leftarrow \\ 42 \\ - 15 \\ \hline 27 \end{array}$$

2 không trừ được 5, lấy 12 trừ 5 bằng 7, viết 7, nhớ 1.

4 trừ 1 bằng 3, 3 trừ 1 bằng 2, viết 2.

$$42 - 15 = 27$$



# 1 Tính:

$$\begin{array}{r} 72 \\ - 19 \\ \hline 53 \end{array}$$

$$\begin{array}{r} 60 \\ - 28 \\ \hline 32 \end{array}$$

$$\begin{array}{r} 93 \\ - 46 \\ \hline 47 \end{array}$$

$$\begin{array}{r} 41 \\ - 32 \\ \hline 09 \end{array}$$

2. Đặt tính rồi tính :

6363636

722 - 277

54 - 16


8080433

3. Trên cây khế có 90 quả .

Chim thần đã ăn mất 24 quả .

Hỏi trên cây còn lại

bao nhiêu quả khế?



TIẾT HỌC ĐẾN ĐÂY LÀ KẾT THÚC

Kính chúc quý thầy cô sức khỏe!

